



## ACTIVIDADES DEL ÁREA DE MATEMÁTICA

PRIMER GRADO DE PRIMARIA - 2020

IEP "SANTA MARÍA"  
Misioneras Dominicanas del Rosario  
Piura

### NOMBRES Y APELLIDOS DE LA ESTUDIANTE

Estimada estudiante, recibe un saludo fraterno y a la vez reiteramos nuestro compromiso de seguir acompañando tu desarrollo integral con el fortalecimiento de tus aprendizajes desde tu hogar, preservando tu salud y la de los miembros de tu familia.

Por ello, te enviamos esta ficha de actividades a fin de continuar avanzando en la mejora de tus capacidades de aprendizaje. Para lograr resultados óptimos te recomiendo preparar un espacio acondicionado para la lectura y resolución de estas actividades, previendo los implementos que necesites, asegurando que puedas desarrollar con atención cada parte del presente material.

Sigamos unidos en oración como familia "Santa María" por la salud de la población mundial.

---

### RESUELVE PROBLEMAS DE FORMA, MOVIMIENTO Y LOCALIZACIÓN

- Expresa las posiciones de los objetos haciendo uso de las nociones "Arriba - Abajo", "Encima – Debajo" y "Delante – Detrás".
  - Pide a papá o mamá que te acompañe durante el desarrollo de la ficha.
  - Lee los problemas con ayuda de un adulto:

1. Susy disfruta momentos en casa y resuelve su libro favorito. Una de las actividades le pide lo siguiente: **“Dibuja un pajarito arriba de la niña y un gato abajo”**. ¿Cómo debe hacerlo? Ayúdala a resolverlo.



2. Después de jugar, Gema siempre ordena sus juguetes.

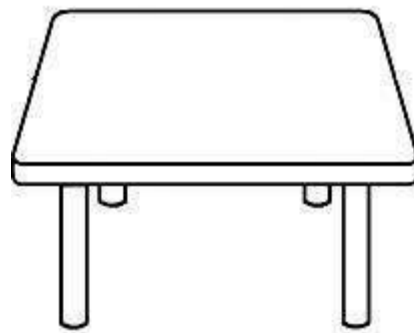
Responde: ¿Dónde está el ? **Marca la respuesta correcta con un aspa (X):**



- a) Detrás de la caja.
- b) Delante de la caja.
- c) Dentro de la caja.

3. Ceci sabe que debe practicar hábitos de higiene, en especial lavarse las manos en todo momento. ¿Cómo organiza sus útiles de aseo? **Dibuja lo que se indica:**

- El jabón y la toalla encima de la mesita.
- El alcohol en gel y el papel higiénico debajo de la mesita.



4. Los niños y las niñas realizan en el colegio un simulacro de sismo. El profesor observa dónde se ubican los niños. ¿Dónde están Paty, Hugo y Nico?



**Marca con un aspa (X) la imagen que complete la respuesta:**



está dentro del círculo de seguridad.







está fuera del círculo de seguridad.

5. Como medida de seguridad para prevenir el coronavirus, en el colegio de Mimí se suspendieron las clases. Ella aprovecha el tiempo en familia y prepara con su mamá una ensalada de frutas. ¿Cómo le indicamos a Mimí dónde está cada fruta?



- Rodea con una  la palabra que corresponda:

- a) Las  están **dentro** – **fuera** de la fuente.
- b) El  está **dentro** – **fuera** de la fuente.
- c) Las  están **dentro** – **fuera** de la fuente.
- d) La  está **dentro** – **fuera** de la fuente.